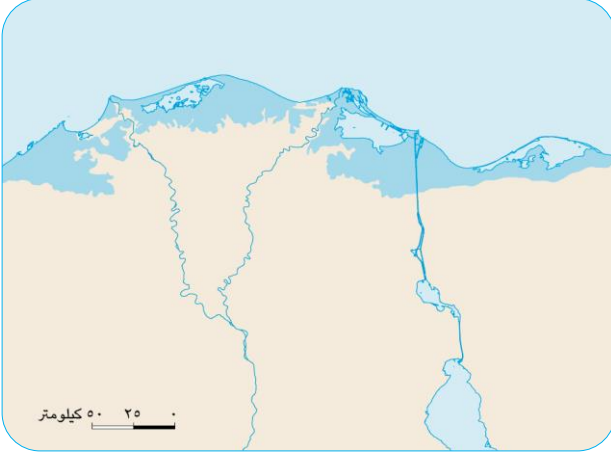




المهام الأدائية للفصل الدراسي الأول

١- المهمة الأدائية (التغيرات المناخية)

يؤدي ارتفاع درجة الحرارة إلى ذوبان الجليد في القطبين مما يسبب ارتفاع مستوى سطح البحر وغرق السواحل. لاحظ الخريطين، ثم أجب عن المهمة التالية.



الدلتا في حالة ارتفاع منسوب البحر مترًا واحدًا



الدلتا عام ٢٠٢٢ م

١- إذا زاد ارتفاع مستوى سطح البحر مترًا، فأَي من محافظات مصر . ستتأثر؟

.....

٢- وضح كيف سيؤثر ذلك على اقتصاد الدولة.

.....

٣- ما الإجراءات التي يمكن اتخاذها للحد من تآكل الشواطئ المصرية؟

.....

٢- المهمة الأدائية (حساب فرق التوقيت)

(حساب فرق التوقيت بين مدينة لندن ومدينة تونس)



- ١- إذا علمت أن الساعة في مدينة لندن الواقعة على خط جرينتش ١٢ ظهرًا ، فكم تكون الساعة في مدينة تونس التي تقع على خط طول ١٠° شرقًا تقريبًا.
(علمًا بأنه فرق التوقيت بين كل خط طول وآخر ٤ دقائق)

.....

.....

.....

- ٢- اذكر أهم دوائر العرض الرئيسية

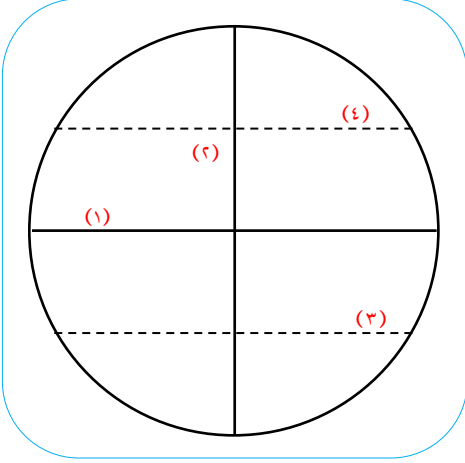
- ٣- تخيل ما الذي يحدث إذا لم يتمكن العلماء من رسم خطوط الطول ودوائر العرض على الخرائط.

.....

.....

٣- المهمة الأداة (خطوط الطول و دوائر العرض)

أمامك نموذج للكرة الأرضية حدد ما تدل عليه الأرقام :



١- دائرة عرض

٢- خط

٣- دائرة عرض

٤- دائرة عرض

٢- اذكر أهمية خطوط الطول.

.....

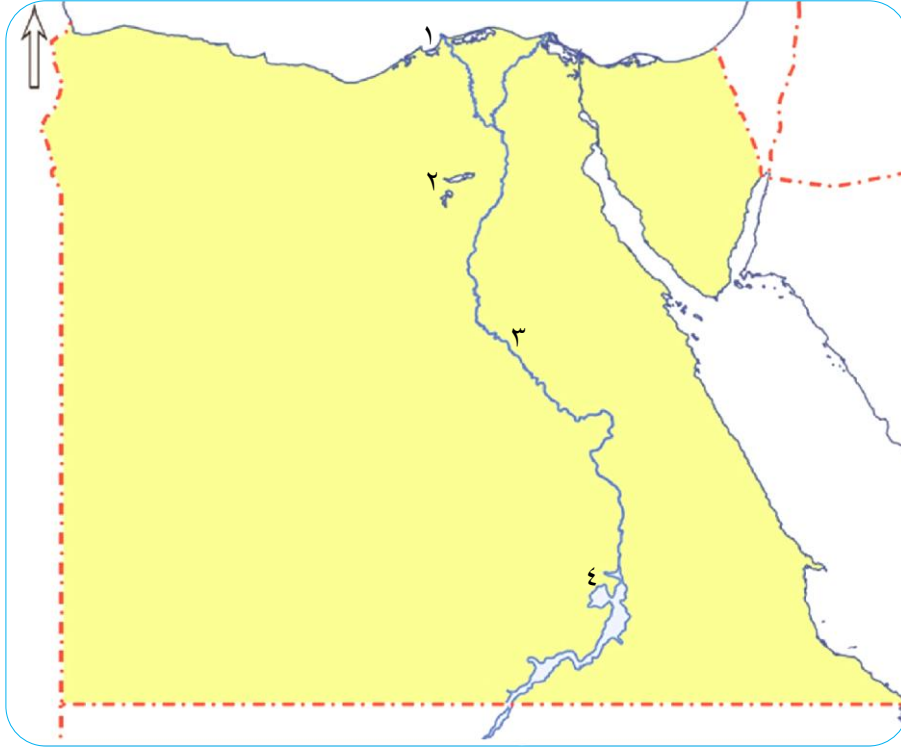
٣- اذكر أهمية دوائر العرض.

.....

٤- المهمة الأدائية (الموارد المائية في مصر)

أمامك خريطة صماء لمصر عن أهم الموارد المائية في مصر لاحظها
جيداً ثم نفذ المهمة التالية :

١- أكمل ما يلي في الجدول التالي :



المياه العذبة	المياه المالحة
٣-	١-
٤-	٢-

٢- اذكر استخداماً واحداً للمياه العذبة.

.....

٣- اذكر استخداماً واحداً للمياه المالحة.

.....

٥- المهمة الإدارية (اختراع النقود)

صمم شكلاً جديداً لعملة فئة الـ ١٠٠ جنيه، على أن تتضمن معلّم من المعالم السياحية ،
أو أحد الآثار التاريخية العريقة لمصر أو شخصية تاريخية فكر، ثم أجب:

١- كيف كان يتعامل المصري القديم في عملية البيع والشراء قبل ظهور النقود؟

.....

٢- لماذا لم يستمر هذا النظام حتى الآن ؟

.....

٢- اذكر ما يمكن أن يقوم به البنك المركزي لمنع تزيف النقود.

.....