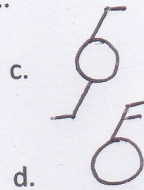


- a. satu saklar tunggal dua lampu
- b. saklar hotel atau saklar tukar

- c. dua saklar dua lampu
- d. satu saklar tunggal satu lampu

6. Untuk saklar ganda yang benar di bawah ini adalah....


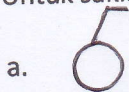


7. Bagian yang dari suatu instalasi dimana kita untuk mendapatkan listrik yang dipergunakan pada Peralatan/perangkat seperti: Ausio amplifier, rice cooker, setrika mesin cuci dan lain-lain yaitu dari

- a. saklar seri/deret
- b. kotak sambung

- c. kontak sambung
- d. steker/cok

8. Untuk saklar tukar yang benar di bawah ini adalah....



9. Ada banyak macam-macam dan jenis kabel penghantar yang di pakai dan digunakan pada instalasi listrik di rumah. Jenis kabel yang sering di gunakan pada pemasangan lampu yang di gantung, dimana jenis kabel tersebut tidak kaku adalah....

- a. kabel NYA
- b. kabel NGA


- c. kabel NYY
- d. kabel Snur

10. Jenis kabel yang dikenal dengan nama NYA adalah jenis kabel yang terdiri inti penghantar dari bahan tembaga dan dilapisi oleh ...

- a. bahan isolasi karet
- b. bahan isolasi polimer

- c. bahan isolasi dari PVC
- d. bahan isolasi dari aspal

11. Untuk simbol sambungan kabel/penghantar terhubung atau koneksi kabel di bawah ini yang benar adalah gambar...



12. Gambar saklar memilih dua terminal terkoneksi adalah gambar...